

## **BATERÍA DE PREGUNTAS:** **Clases A (motocicleta) y B (auto/camioneta)**

### **Marco legal:**

Ley Nacional 24.449 / Ley Nacional 26.363 /Ley Provincial 13.927 /Decreto Reglamentario 532/09

### **UNIDAD 1: PRIORIDADES DE PASO**

1) ¿Qué vehículo tiene prioridad de paso en una intersección de calles de igual jerarquía?:

- El que llega primero a la intersección.
- El vehículo de porte mayor.
- **El que circula desde la derecha.**

(Pregunta de carácter eliminatorio)

2) Cuando se ingresa a una rotonda, ¿qué vehículo tiene prioridad de paso?:

- El que desea ingresar a la rotonda. - **El que circula por la rotonda.**
- Depende del porte del vehículo.

3) ¿Qué vehículos tienen siempre prioridad de paso?:

- Ambulancias, policía y bomberos, estén o no en servicio.
- Ambulancias, policía, bomberos y transporte de personas.
- **Ambulancias, policía y bomberos, con las señales de advertencia reglamentarias activadas.**

4) En una intersección, entre una semiautopista y una avenida ¿quién tiene la prioridad de paso? -  
Quien circula por la avenida.

- **Quien circula por una semiautopista.**
- El vehículo de mayor porte.

5) Un auto que está atravesando un paso a nivel (pasando por encima de las vías del tren) ¿debe ceder el paso?

- Sí, siempre.
- **No, siempre tiene prioridad de paso.**
- Solo si viene por la izquierda.

6) Dos vehículos se encuentran en una intersección entre una calle asfaltada y una calle de tierra ¿quién tiene prioridad de paso?

- **El que circula por la calle asfaltada.**
- Quien llega primero.
- El que circula por la calle de tierra.

7) Dos vehículos se encuentran en una intersección entre una avenida y una semiautopista ¿quién tiene prioridad de paso?

- El que circula por la derecha.
- **El que circula por la semiautopista.**
- El que circula por la avenida.

8) Si vengo circulando por la derecha y voy a girar para entrar a otra vía, ¿qué debo hacer?

- Girar inmediatamente ya que tengo prioridad de paso.
- **Ceder el paso a quien venga por la otra vía.**

9) En una intersección se encuentran un auto y un camión, ¿quién tiene prioridad de paso?

- El auto.
- El camión.
- **El que circula por la derecha.**

10) Un auto y un patrullero policial en emergencia se encuentran en una encrucijada ¿quién debe ceder el paso?

- El patrullero.
- **El auto.**
- El que circule por la izquierda.

11) ¿En cuál de las siguientes situaciones pierdo la prioridad de paso, aunque circule por la derecha?

- Ante vehículos que circulen por avenida.
- **Ante señalización específica en contrario.**
- Ante vehículos de línea urbana.

12) ¿Quién tiene prioridad de paso entre un peatón que va cruzar por la senda peatonal y una ambulancia en estado de emergencia?

- **La ambulancia.**
- El peatón.
- El que llegue primero.

13) ¿En cuál de las siguientes situaciones pierdo la prioridad de paso, aunque circule por la derecha?

- Ante vehículos que circulen por avenida.
- **Cuando giro para ingresar a otra vía.**
- Ante vehículos de línea urbana.

14) ¿Qué maniobra debo hacer previo al cruce de una semi autopista?

- **Detener la marcha.**
- Cruzar lo más rápido posible.
- Cruzar manteniendo la marcha a la que estoy circulando.

15) Si circulo por una calle de tierra y desemboco a una calle asfaltada ¿tengo prioridad de paso?

- Solo si circulo desde la derecha.
- Tengo prioridad en todos los casos.
- **No tengo prioridad de paso.**

16) Por una calle circula un auto y por una avenida una moto, al llegar al cruce, ¿quién tiene prioridad de paso?

- El auto.
- La moto.
- **El que circule por la derecha.**

17) ¿Quién tiene prioridad de paso entre un vehículo que dobla y un peatón que va a cruzar?

- El vehículo que dobla.
- **El peatón.**
- El que llegue primero.

18) ¿Quién tiene prioridad de paso en una cuesta estrecha?

- **El vehículo que sube.**
- El vehículo que baja.
- Se ponen de acuerdo.

19) ¿Quién tiene prioridad de paso en una rotonda?

- El vehículo que ingresa.
- **El vehículo que circula.**

20) Dos vehículos se encuentran en una intersección entre una calle y una avenida ¿quién tiene prioridad de paso?

- El que circule por la avenida.
- El que circule por la calle.
- **El que circule por la derecha.**

21) Cuando un vehículo circula por una arteria ubicada al costado de una vía férrea, ¿es obligatorio ceder el paso a otro que sale del paso a nivel?

- Sí, si viene desde la derecha.
- No, si viene desde la izquierda.
- **Se le debe ceder el paso venga de la izquierda o derecha.**

## UNIDAD 2: VELOCIDADES MÁXIMAS Y MÍNIMAS

1) Los excesos de velocidad:

- En la actualidad apenas tienen incidencia en los incidentes, debido a la seguridad de los vehículos.
- Son responsables de la mayoría de los incidentes solamente en vías de doble sentido.
- **Son responsables de la mayoría de los incidentes fatales cualquiera sea la vía de circulación.**

2) La velocidad MÁXIMA permitida para avenida es:

- **60 km/h.**
- 40 km/h .
- 50 km/h.

(Pregunta de carácter eliminatorio)

3) La velocidad MÁXIMA permitida para calle es:

- 30 km/h.
- **40 km/h.**
- 50 km/h.

(Pregunta de carácter eliminatorio)

4) La velocidad precautoria para encrucijada es:

- 40 km/h.
- 30 km/h.**
- 20 km/h.

5) La velocidad MÁXIMA permitida para autopista es:

- 110 km/h.
- 120 km/h.
- 130 km/h.**

6) La velocidad MÁXIMA permitida para ruta en zona rural es:

- 110 km/h.**
- 120 km/h.
- 130 km/h.

7) La velocidad MÁXIMA permitida para semiautopista (autovía) es:

- 110 km/h.
- 120 km/h.**
- 130 km/h.

8) La velocidad MÍNIMA permitida para semiautopista (autovía) es:

- 30 km/h.
- 40 km/h.**
- 50 km/h.

9) La velocidad MÍNIMA permitida para calle es:

- 20 km/h.**
- 30 km/h.
- 40 km/h.

10) La velocidad MÍNIMA permitida para avenida es:


- 20 km/h.
- 30 km/h.**
- 40 km/h.

11) La velocidad MÍNIMA permitida para autopista es:

- 45 km/h.
- 55 km/h.
- 65 km/h.**

12) La velocidad MÁXIMA permitida en proximidades a escuelas y hospitales es:

- 20 km/h.**
- 30 km/h.
- 40 km/h.



### UNIDAD 3: SEÑALIZACIÓN

1) Con carácter general, si nos encontramos con una señal de “Prohibido estacionar”, ¿está permitido detenerse para subir o bajar pasajeros de un vehículo?

-Sí.

-No.

-Según la hora.

2) Cuando un semáforo cambia de luz roja a verde está habilitado a reiniciar la marcha, no obstante ¿qué recaudos hay que tomar?

- No iniciar el cruce si no hay espacio para ubicar el vehículo del otro lado sin obstruir la circulación transversal.

- Permitir, antes de avanzar, que complete el cruce otro vehículo o peatón que ya lo haya iniciado.

- **Ambas respuestas son correctas.**

3) La línea discontinua pintada en el centro de calzadas y rutas indica:

- **Que puede ser traspasada.**

- Que no debe ser traspasada.

- Que no se puede circular sobre ellas.

4) La línea continua pintada en el centro de calzadas y rutas indica:

- Que puede ser traspasada.

- **Que no debe ser traspasada.**

- Que no se puede circular sobre ellas.

5) ¿Qué indica la luz roja del semáforo?

- **Que debe detenerse.**

- Que puede avanzar si no circula otro vehículo transversalmente.

- Que puede avanzar si no cruzan peatones.

(Pregunta de carácter eliminatorio)

6) ¿Cómo debe actuar el conductor ante la señal de “Pare”?

- Debe aminorar la marcha y continuar solo si es seguro.

- Debe detener la marcha solo si cruzan peatones.

- **Debe detener por completo la marcha y reanudarla una vez que sea seguro.**

7) ¿Cuáles son las señales de prevención?

- **Son las que advierten la proximidad de una circunstancia o variación en la normalidad de la vía que puede resultar sorpresiva o peligrosa a la circulación.**

- Son las que identifican, orientan y hacen referencia a servicios, lugares, etc.

- Son las que transmiten ordenes específicas de cumplimiento obligatorio en el lugar para el cual están destinadas.

8) ¿Cuáles son las señales de reglamentación?

- Son las que advierten la proximidad de una circunstancia o variación en la normalidad de la vía que puede resultar sorpresiva o peligrosa a la circulación.


- Son las que identifican, orientan y hacen referencia a servicios, lugares, etc.

- **Son las que transmiten ordenes específicas de cumplimiento obligatorio en el lugar para el cual están destinadas.**

9) Según la forma de estas señales, ¿cuál pertenece al grupo de señales de reglamentación?



A



B




C

10) Según la forma de estas señales, ¿cuál pertenece al grupo de señales de prevención?



A



B




C

11) Según la forma de estas señales, ¿cuál pertenece al grupo de señales de información?



A



B



C

12) ¿Cuál de estas líneas pintadas en el asfalto habilita el cambio de carril?



A. Línea continua

B. Línea discontinua

13) ¿Cuál de estas líneas pintadas en el asfalto prohíbe el cambio de carril?



A. Línea continua

B. Línea discontinua

## SEÑALES REGLAMENTARIAS

14) Indique el significado de la siguiente señal:



- **Prohibido estacionar.**
- Permitido estacionar.
- Prohibido detenerse.

15) Indique el significado de la siguiente señal:



- No girar a la izquierda.
- Fin de curva peligrosa.
- **No girar a la derecha.**

16) Indique el significado de la siguiente señal:



- **No avanzar.**
- Avanzar con precaución.
- Sentido único de circulación.

17) Indique el significado de la siguiente señal:



- Velocidad mínima.
- **Velocidad máxima.**
- Velocidad mínima limitada para autos.

18) Indique el significado de la siguiente señal:



- Prohibido estacionar.
- **Prohibido estacionar y detenerse.**
- Estacionamiento exclusivo.

19) Indique el significado de la siguiente señal:



- Giro obligatorio a la izquierda.
- Curva peligrosa.
- **Giro obligatorio a la derecha.**

20) Indique el significado de la siguiente señal:



- **Contramano.**
- Puesto de control.
- Zona peligrosa.

21) Indique el significado de la siguiente señal:



- **Prohibición de realizar ruidos molestos.**
- No utilizar bocina en horario nocturno.
- Permitido utilizar bocina en horario nocturno.

22) Indique el significado de la siguiente señal:



- Reducir la marcha.
- Cruzar con precaución.
- **Detenerse.**

23) Indique el significado de la siguiente señal:



- Retome.
- **Prohibido girar en "U".**
- Prohibido girar a la izquierda.

24) Indique el significado de la siguiente señal:



- **No girar a la izquierda.**
- Fin de curva peligrosa.
- No girar a la derecha.

25) Indique el significado de la siguiente señal:



- Se debe ceder el paso a los vehículos.
- Se debe ceder el paso al peatón.
- **Se debe ceder el paso en toda circunstancia.**

26) Indique el significado de la siguiente señal:




- Prohibido adelantarse.
- **Prohibido circular autos.**
- Prohibido circular sin luces.

27) Indique el significado de la siguiente señal:



- **Prohibido circular motos.**
- Carril exclusivo para motos.
- Prohibido estacionar motos.

28) Indique el significado de la siguiente señal:



- Contramano.
- **Puesto de control.**
- Zona peligrosa.

29) Indique el significado de la siguiente señal:



- Sentido de circulación (fin).
- **Sentido de circulación (inicio).**
- Circulación opcional.

30) Indique el significado de la siguiente señal:



- Prohibido avanzar hacia adelante.
- Permitido avanzar hacia adelante.
- **Preferencia de avance.**

31) Indique el significado de la siguiente señal:



- Circulación obligatoria (izquierda).
- Prohibido circular a la derecha.
- **Paso obligado (derecha).**

32) Indique el significado de la siguiente señal:



- Peatones por la derecha.
- **Peatones por la izquierda.**
- Proximidad de senda peatonal.

33) Indique el significado de la siguiente señal:




- Calle de una sola mano.
- Circulación obligatoria.
- **Prohibido cambiar de carril.**

34) Indique el significado de la siguiente señal:



- Prohibido circular autos.
- **Prohibido adelantarse.**
- Prohibido circular sin luces bajas.

35) ¿Cuál de las siguientes señales significa "Contramano"?



A



B



C

36) ¿Cuál de las siguientes señales significa “Prohibido estacionar”?



A

B

C

37) ¿Cuál de las siguientes señales significa “Prohibido adelantarse”?



A

B

C

38) ¿Cuál de las siguientes señales significa “Velocidad máxima”?



A

B

C

## SEÑALES PREVENTIVAS

39) Indique el significado de la siguiente señal:



- Quiebre de camino.
- Curva (izquierda).
- **Curva (derecha.)**

40) Indique el significado de la siguiente señal:



- Curva y contracurva.
- **Camino sinuoso.**
- Curva pronunciada.

41) Indique el significado de la siguiente señal:



- **Perfil irregular (lomada).**
- Baden.
- Calzada resbaladiza.

42) Indique el significado de la siguiente señal:



- Puente angosto.
- **Estrechamiento de calzada.**
- Ensanchamiento de calzada.

43) Indique el significado de la siguiente señal:



- Puente angosto.
- **Estrechamiento de calzada.**
- Ensanchamiento de calzada.

44) Indique el significado de la siguiente señal:



- Pendiente ascendente.
- **Pendiente descendente.**
- Prioridad para el que desciende.

45) Indique el significado de la siguiente señal:



- Perfil irregular (lomada).
- **Badén.**
- Zona de baches.

46) Indique el significado de la siguiente señal:



- Camino sinuoso.
- **Calzada resbaladiza.**
- Fin de calzada de resbaladiza.

47) Indique el significado de la siguiente señal:



- Lluvias intensas.
- Circular con luces encendidas.
- **Zona de derrumbes.**

48) Indique el significado de la siguiente señal:



- Camino sin banquetas.
- Estrechamiento de calzada.
- **Puente angosto.**

49) Indique el significado de la siguiente señal:



- **Calzada dividida (comienzo).**
- Comienzo de banquina.
- Calzada dividida (fin).

50) Indique el significado de la siguiente señal:



- Aeropuerto.
- Zona de pre embarque.
- **Corredor aéreo.**

51) Indique el significado de la siguiente señal:



- **Incorporación de tránsito lateral.**
- Bifurcación.
- Calle sin salida.

52) Indique el significado de la siguiente señal:



- Prohibido avanzar hacia adelante.
- Sentido de circulación por la derecha.
- **Doble sentido de circulación.**

53) Indique el significado de la siguiente señal:



- Zona de pastoreo de ganado.
- **Animales sueltos.**
- Zona rural.

54) Indique el significado de la siguiente señal:



- Cruce a nivel.
- **Encrucijada.**
- Intersección peligrosa.

55) Indique el significado de la siguiente señal:



- Giro obligatorio.
- Plaza sin salida.
- **Rotonda.**

56) ¿Cuál de las siguientes señales significa "Badén"?



A



B



C

57) ¿Cuál de las siguientes señales significa “Curva y contracurva”?



A                      B                      C

58) ¿Cuál de las siguientes señales significa “Puente angosto”?



A                      B                      C

### SEÑALES INFORMATIVAS

59) Indique el significado de la siguiente señal:



- Zona de fogones.
- **Campamento.**
- Zona de túneles.

60) Indique el significado de la siguiente señal:



- Zona peligrosa.
- Puesto de control.
- **Puesto sanitario.**

61) Indique el significado de la siguiente señal:

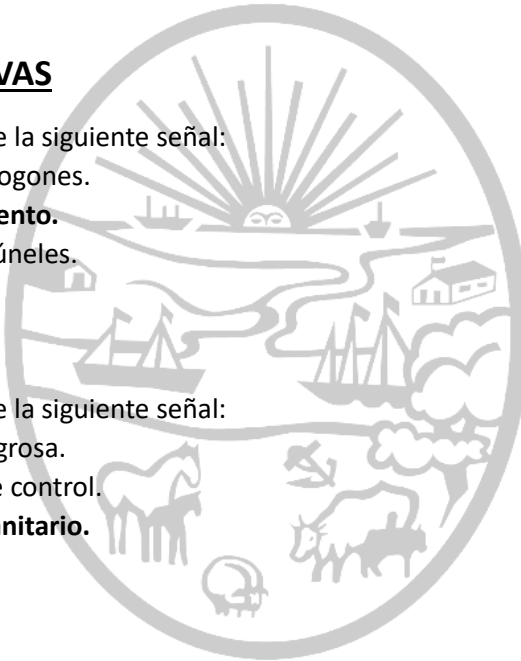


- Vehículos de emergencia.
- **Estacionamiento.**
- Encrucijada peligrosa.

62) Indique el significado de la siguiente señal:



- Estacionamiento vehículos particulares.
- Parada de colectivos
- **Parada de taxi.**



63) Indique el significado de la siguiente señal:



- Helipuerto.
- **Teleférico.**
- Aeródromo.

64) Indique el significado de la siguiente señal:



- Circular con cadenas.
- Detención obligatoria (control cubiertas).
- **Gomería.**

65) Indique el significado de la siguiente señal:



- Monumento histórico.
- Catedral.
- **Museo.**

66) Indique el significado de la siguiente señal:



- Helipuerto.
- **Hotel.**
- Hospital.

67) Indique el significado de la siguiente señal:



- Servicio de aire.
- Servicio de reposición de agua.
- **Estación de servicio.**

68) Indique el significado de la siguiente señal:




- Helipuerto.
- **Aeropuerto.**
- Corredor aéreo.

69) Indique el significado de la siguiente señal:



- **Servicio telefónico.**
- Permitido el uso de celular.
- Prohibido el uso de celular.



70) ¿Cuál de las siguientes señales significa “Fin de autopista”?



A



B



C

#### UNIDAD 4: MANIOBRA DE ADELANTAMIENTO, GIROS Y VIAS MULTICARRIL

1) ¿Qué son los carriles exclusivos?

- Vías con un único sentido de circulación.
- **Bandas longitudinales demarcadas en la calzada, destinadas a la circulación de determinados vehículos.**
- Lugar por donde circulan ambulancias, bomberos y/o vehículos policiales, en cumplimiento o no de sus funciones.

2) Si desea girar a la izquierda desde una calle de sentido único, ¿qué maniobra debe realizar?

- Debo acercarme al automóvil al centro de la calle y luego girar.
- **Debo acercarme al cordón de la misma mano para luego girar.**
- Debo acercarme al automóvil a la derecha y luego girar.

3) ¿Cómo deberá el conductor señalar a los vehículos posteriores la intención de adelantarse?

- Se deberán utilizar las balizas.
- Se deberá utilizar la luz de giro derecha.
- **Se deberá utilizar la luz de giro izquierda.**

4) Indique en cuáles de las siguientes zonas está prohibida la maniobra de adelantamiento:

- En puentes.
- En curvas.
- En encrucijadas.
- **Todas las respuestas son correctas.**

5) ¿Está permitido adelantarse en proximidades de puentes, curvas o cimas?:

- Únicamente en caminos no pavimentados.
- **Nunca debe adelantarse en esos sitios.**
- Puede adelantarse si tiene visibilidad suficiente.

6) En una autopista ¿para qué debe ser utilizado el carril extremo izquierdo?

- Para realizar la maniobra de adelantamiento y que circulen los vehículos de carga.
- **Para circular a la máxima velocidad permitida y realizar la maniobra de adelantamiento.**
- No debe utilizarse, debe estar libre para que circulen los vehículos de emergencia.

7) La maniobra de giro puede ser causante de un siniestro si no se efectúa tomando los recaudos necesarios. Para realizar un giro debe respetarse la señalización, y circular:

- Lo más próximo posible al vehículo que está por delante disminuyendo la velocidad.
- **Desde 30 metros antes por el costado más próximo al giro a efectuar.**
- Desde 50 metros antes por el costado más próximo al giro a efectuar.

8) ¿Cómo debe advertir la maniobra de giro?:

- **Mediante la señal luminosa correspondiente y con debida anticipación.**
- Sacando el brazo por la ventanilla, con la señal luminosa correspondiente y con la debida anticipación.
- No es necesario advertir la maniobra.

9) Para realizar un giro, ¿debe advertirse la maniobra con suficiente antelación, mediante la señal luminosa correspondiente, hasta la salida de la encrucijada?

- **Si.**
- No.
- Depende de las circunstancias, no siendo necesario cuando ya se ganó el lugar de giro.

10) Vías multicarriles:

- La advertencia sobre cambio de carril, mediante la luz de giro, se realizará con una antelación mínima de DIEZ SEGUNDOS (10").
- **La advertencia sobre cambio de carril, mediante la luz de giro, se realizará con una antelación mínima de CINCO SEGUNDOS (5").**
- La advertencia sobre cambio de carril, mediante la luz de giro, se realizará con una antelación mínima de QUINCE SEGUNDOS (15").

11) En el ingreso a una autopista ¿a quién se debe ceder el paso?

- **En el ingreso a una autopista debe cederse el paso a quienes circulan por ella.**
- En el ingreso a una autopista debe cederse el paso a quienes circulan por la derecha.
- En el ingreso a una autopista debe cederse el paso a quienes circulan con mayor velocidad.

12) Es obligatorio al finalizar un adelantamiento:

- Permanecer en el carril ocupado, independientemente de la fluidez del tránsito.
- **Incorporarse al carril derecho, si éste se encuentra libre, de forma gradual y sin obstaculizar la fluidez de tránsito.**
- Incorporarse al carril derecho, aunque esto implique que otro vehículo deba modificar su velocidad.

13) Como norma general, ¿dónde está prohibido el sobrepaso de un vehículo?

- Donde la delimitación de carriles es de trazo continuo.
- En curvas, encrucijadas, pasos a nivel o puentes.
- **Ambas respuestas son correctas.**

14) En un túnel, con ambos sentidos de circulación, ¿está permitido sobrepasar a un vehículo?

- Sí, cuando no haya señal que lo prohíba.
- **No, ya que está prohibido por normativa.**
- Sí, si hay suficiente visibilidad.

15) En una vía de doble sentido de circulación, ¿qué deberá comprobar antes de iniciar un sobrepaso?

- Que el vehículo que antecede, no tenga las luces intermitentes encendidas y que ningún vehículo circule en sentido contrario, mientras dure la maniobra de sobrepaso.
- Que ningún otro vehículo esté realizando la maniobra de sobrepaso.
- **Ambas respuestas son correctas.**

16) Por norma general ¿Por dónde se debe realizar la maniobra de adelantamiento?

- Por el carril derecho.
- **Por el carril izquierdo.**
- Es indistinto.

(Pregunta de carácter eliminatorio)

17) ¿Está permitido realizar la maniobra de adelantamiento en curvas?

- **Está prohibido.**
- Está permitido.
- Depende del grado de cerramiento de la curva.

18) Indique dónde se encuentra prohibida la maniobra de adelantamiento

- Avenidas.
- Semiautopistas.
- **Curvas.**

19) ¿Qué debe hacer un conductor para facilitarle el sobrepaso a otro vehículo?

- Tocar bocina para avisarle que puede sobrepasarlo.
- **Disminuir la velocidad corriéndose a la derecha.**
- Correrse a la derecha sin disminuir la velocidad.

20) ¿En cuál de los siguientes lugares está prohibida la maniobra de adelantamiento?

- **Intersección.**
- Avenida.
- Semiautopista.

21) ¿En qué caso de excepción está permitido realizar el adelantamiento por el carril derecho?

- **Cuando el vehículo de adelante ha indicado su intención de doblar a la izquierda.**
- Cuando el vehículo de adelante ha indicado su intención de doblar a la derecha.

22) Indique dónde está permitida la maniobra de adelantamiento

- Intersección.
- **Avenida.**
- Curvas.

23) En avenidas ¿cuándo se puede girar a la izquierda?

- Siempre, mirando que no venga nadie de la mano contraria.
- Solo cuando haya un separador físico (rambla).
- **Solo cuando la señalización lo permita.**

24) ¿Cómo debe indicarse al vehículo de atrás que no le conviene adelantarse?

- Con destellos frontales.
- Con un gesto manual.
- **Con luz de giro a la izquierda.**

25) ¿Qué debe hacerse antes de ingresar a una semiautopista?

- Reducir la velocidad.
- Circular a velocidad precautoria.
- **Detener la marcha.**

26) La advertencia de cambio de carril, mediante la luz de giro, ¿con qué anticipación mínima debe realizarse?

- **Cinco segundos.**
- Diez segundos.
- Tres segundos.

27) Según la ley, en una autopista está prohibido:

- Sobrepasar a otros vehículos.
- Detenerse por causas de fuerza mayor.
- **Circular marcha atrás.**

28) Al atravesar túneles o puentes en una ruta, ¿está permitido adelantarse a otro vehículo?

- Sí.
- **No.**
- Según los días y horas.

## UNIDAD 5: DOCUMENTACIÓN OBLIGATORIA

1) ¿Es obligatorio circular con el comprobante de póliza de seguro?

- Es optativo circular con el comprobante de seguro.
  - **Es obligatorio circular con el comprobante de seguro.**
  - Es obligatorio circular con el comprobante de seguro sólo en caso de conductores profesionales.
- (Pregunta de carácter eliminatorio)

2) ¿Cuál de los siguientes documentos NO es obligatorio para circular para circular en auto o moto?

- Verificación técnica vehicular.
- **Título de propiedad del vehículo..**
- Comprobante de póliza del seguro

3) ¿Cuál de los siguientes documentos NO es obligatorio para circular para circular en auto o moto?

- Verificación técnica vehicular.
- Cédula de identificación del vehículo.
- **Libreta Sanitaria.**

4) ¿Cuál de los siguientes documentos resulta obligatorio para circular en auto o moto?

- **Verificación técnica vehicular.**
- Título de propiedad del vehículo.
- Libreta Sanitaria.

5) Al tener la licencia vencida, ¿por cuánto tiempo puede seguir conduciendo sin estar en infracción?

- 30 días corridos desde su vencimiento.
- 90 días corridos desde su vencimiento.
- **No está permitido conducir con la licencia vencida.**

6) Al realizar cualquier cambio de datos en el DNI, ¿cuántos días tengo para declararlo en la licencia para que la misma no caduque?

- 30 días corridos desde su vencimiento.
- **90 días corridos desde su vencimiento.**
- No es necesario declarar los cambios de datos.

7) La ubicación y posición de las placas de dominio del vehículo (chapa patente), ¿puede sufrir algún tipo de modificación?

- Sólo pueden, eventualmente, ampliarse para mejorar su visibilidad.
- **No, deben estar colocadas en el lugar y de forma reglamentaria.**
- Sólo está prohibido modificar la placa de dominio trasera, no así la delantera.

8) Indique en que opción se procede a retener la licencia -

**Procede cuando estén vencidas.**

- Procede cuando existan deudas por patente.
- Procede cuando estén vencidas sólo en caso de conductores profesionales.

9) ¿Es obligatorio portar el DNI para circular?

- No, porque los datos ya figuran en la Licencia.
- Solo si voy a pasar de una jurisdicción a otra.
- **Es obligatorio tanto el DNI como la Licencia.**

## UNIDAD 6: SISTEMA DE ILUMINACIÓN

1) Si durante la circulación entra en un “banco de niebla”, Ud. debe:

- Encender las luces altas.
- **Asegurarse que las luces bajas estén encendidas.**
- Accionar balizas.

2) En una ruta nacional ¿qué juego de luces es obligatorio llevar las 24 hs?

- Luces altas.
- **Luces bajas.**
- Luces de posición.

3) El uso de luces bajas o alcance medio es obligatorio en zona rural, ruta, carretera autopista o semiautopista:

- Desde el crepúsculo hasta el alba.
- **Durante las 24 horas del día sin importar las condiciones climáticas.**
- Durante las 24 horas del día sólo si la visibilidad es escasa.

4) Los faros delanteros deben ser:

- De luz blanca únicamente.
- **De luz blanca o amarilla indistintamente.**
- De luz amarilla únicamente.

5) Los faros delanteros:

- No indican sentido de marcha.
- Sólo indican el sentido de marcha si son amarillas.
- **Indican el sentido de marcha.**

6) Las luces de posición traseras deben ser:

- De color blanco.
- De color blanco o rojo indistintamente.
- **De color rojo.**

7) La luz de retroceso debe ser:

- De color amarillo.
- **De color blanco.**
- De color rojo.

9) El uso de luces altas es obligatorio en zona rural y autopistas:

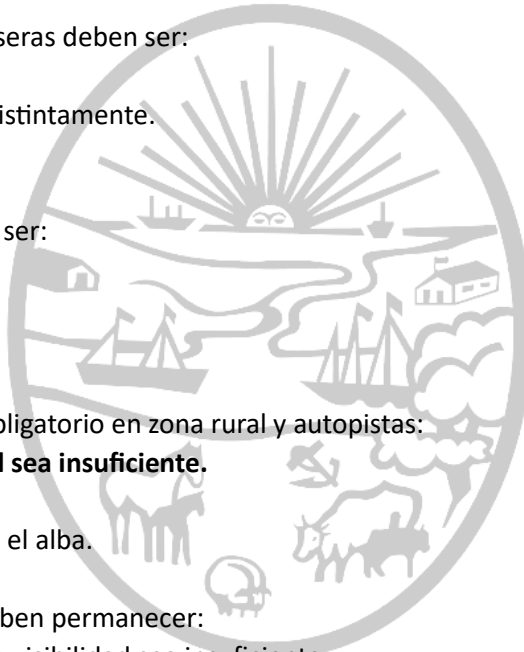
- **Sólo cuando la luz natural sea insuficiente.**
- Las 24 horas del día.
- Desde el crepúsculo hasta el alba.

10) Las luces de posición deben permanecer:

- Encendidas sólo cuando la visibilidad sea insuficiente.
- **Siempre encendidas.**
- Encendidas sólo en horas nocturnas.

11) En zona urbana, cuando es obligatorio llevar las luces encendidas de un vehículo, ¿cuáles debemos utilizar?

- Las luces de posición y las altas.
- Las luces bajas y altas dependiendo la visibilidad.
- **Solo las luces de posición y las bajas.**



## UNIDAD 7: RESPONSABILIDADES Y PROHIBICIONES

1) Cuando no hay demarcación de la senda peatonal, ¿por dónde deben cruzar los peatones?

- Es indistinto, siempre que miren a ambos lados antes de hacerlo.
- En coincidencia con las paradas de transporte.
- **Por la esquina, por la prolongación longitudinal de la vereda sobre la calle.**

2) ¿Qué obligaciones impone la ley a aquel conductor que participe de un siniestro?

- Detenerse inmediatamente, solicitar auxilio para atender a las víctimas si las hubiera y brindar su colaboración para evitar mayores daños para la circulación.
- Suministrar sus datos personales, del vehículo, de la licencia de conducir y del seguro obligatorio a los demás siniestrados y a la autoridad interviniente.
- **Ambas respuestas son correctas.**

3) En un incidente de tránsito, ¿qué significa que el conductor sea considerado responsable por negligencia?

- Que no ha respondido adecuadamente a una circunstancia del tránsito por falta de práctica en la conducción.
- Que ha realizado un acto con su vehículo que las reglas de prudencia indican no hacer, o sea, que ha actuado peligrosamente.
- **Que ha actuado no conforme a las exigencias de la Ley.**

4) En caso de siniestro en el que usted esté involucrado debe:

- Continuar la marcha.
- Detenerse en forma inmediata.
- **Detenerse despacio de forma gradual inmediata.**

5) Para quienes participan de un accidente es obligatorio:

- **Detenerse siempre.**
- Únicamente si es responsable del siniestro.
- Sólo si hay heridos.

6) En caso de accidente, es obligatorio suministrar los datos de la licencia de conductor y del seguro:

- A la autoridad únicamente.
- No es obligatorio si la autoridad no presenció el siniestro.
- **A la autoridad y a la otra parte involucrada.**

7) Para atravesar una intersección el conductor debe:

- **Estar preparado para frenar o eventualmente detener su vehículo.**
- No detenerse bajo ninguna circunstancia.
- Aumentar la velocidad a los fines de cruzar rápidamente sin obstruir el tránsito.

8) ¿Cuándo puede detenerse y/o estacionar sobre la banquina?:

- Cuando tenga necesidad y por cualquier causa.
- Siempre, mientras esté colocada la señalización reglamentaria (balizas).
- **Sólo cuando ocurra una emergencia colocando la debida señalización.**

- 9) Indique el orden correcto de prioridad normativa
- Ley vigente, Señales de tránsito, Agente de tránsito.
  - **Agente de tránsito, señales de tránsito, ley vigente.**
  - Señales de tránsito, Agente de tránsito, ley vigente.

- 10) Si el conductor de un vehículo circula con las balizas encendidas, toca repetidamente la bocina y el acompañante saca el brazo agitando un pañuelo. ¿Qué está indicando?
- Que el vehículo tiene un desperfecto.
  - **Que se encuentra en emergencia, transportando a una persona en grave estado de salud.**
  - Ambas respuestas son correctas.

- 11) ¿Puede un vehículo no destinado a remolque, remolcar a otros?
- Si.
  - **No, salvo casos de fuerza mayor.**
  - No, en ningún caso.

- 12) ¿Está permitido el uso de la bocina en zona urbana?
- Si, en cualquier caso.
  - No, en ningún caso.
  - **Solo en caso de peligro.**

- 13) ¿En qué caso se puede circular por la banquina?
- Cuando hay congestión de tránsito.
  - Para adelantarse a otro vehículo.
  - **En caso de emergencia.**

## UNIDAD 8: ELEMENTOS Y CONDICIONES DE SEGURIDAD (MOTOS)

- 1) ¿Cuál es el grado de alcoholemia permitido para desarrollar la conducción de motos? -
- **0,0 mg.**
  - 0,2 mg.
  - 0,5 mg.

- 2) ¿Está permitido conducir en la vía pública con auriculares puestos?
- Si, ya que no genera impedimento visual ni físico.
  - **No, está expresamente prohibido por la ley.**
  - Depende por cuál vía se circule.

- 3) ¿Cuáles son los factores que pueden afectar al campo visual?
- **Condiciones climáticas.**
  - Tamaño del vehículo.
  - Iluminación propia del vehículo.

- 4) ¿Cuál es la “distancia mínima de seguridad” que deben respetar los vehículos entre sí para circular?
- **Una diferencia de 2 segundos.**
  - Una distancia de 2 metros.
  - No existe una determinada. Sólo está prohibido circular inmediatamente detrás, sin dejar distancia

5) ¿En qué ocasiones se permite el uso de la bocina?

- **Sólo para advertir una situación potencialmente de peligro.**
- Sólo para advertir de un sobrepaso.
- Ambas respuestas, la A y la B, son incorrectas.

6) El uso de casco para circular en moto es:

- Optativo para el conductor y acompañante.
- Obligatorio solo para el conductor y optativo para el acompañante.
- **Obligatorio para el conductor y acompañante.**

(Pregunta de carácter eliminatorio)

7) Las motos y ciclomotores ¿cuántos acompañantes pueden llevar?

- Los conductores mayores de edad no pueden llevar acompañantes.
- **Pueden llevar un acompañante.**
- Las motos pueden llevar un acompañante y los ciclomotores no.

8) ¿Cuánto peso adicional puede transportar una motocicleta?

- Hasta 50 kg.
- Hasta 70 kg.
- **Hasta 100 kg.**
- No puede llevar carga adicional.

9) Los que circulen en motocicletas, motos y similares deben usar cascos:

- De cualquier tipo siempre que proteja bien la cabeza.
- **Los que cumplan con las normas reglamentarias.**
- De plástico flexible que puede ser abiertos o cerrados.

10) Para circular en moto ¿son aptos los cascos de uso industrial?

- **No, porque debe ser un casco que cumpla con las normas IRAM.**
- Sí, dado que se trata de cascos con altos niveles de protección.
- Sí. Siempre que el mismo tenga visera.

11) Está permitido estacionar motocicletas o motos en la vereda:

- **No, está prohibido.**
- Sí, está permitido sin restricciones.
- Sí, está permitido en determinados días y horarios.

12) ¿Cuáles son los juegos de luces que deben llevar las motos según la ley?

- Sistema de destellos de luces frontales.
- Luces de retroceso.
- **Luces de posición.**

13) La circulación de una motocicleta por la banquina de una autopista:

- **Está prohibida, salvo en emergencias.**
- Solo se podrá realizar cuando se produzcan atascos.
- Podrán circular en todo momento y ocasión.

14) Que distancia mínima debe mantener un motociclista de un vehículo de mayor porte cuando circulan paralelamente por la misma vía y dirección.

- 5 metros.
- **1, 5 metros.**
- 3 metros.

15) ¿Cuál es la forma recomendable para frenar una motocicleta?

- Frenar levemente con el freno trasero (pedal), instantes antes de accionar el freno delantero ya que el freno trasero posee una mayor adherencia y provee el 70% de la fuerza de frenado.
- **Frenar levemente con el freno delantero, instantes antes de accionar el freno trasero (pedal) ya que el freno delantero posee una mayor adherencia y provee el 70% de la fuerza de frenado.**

16) ¿Qué modalidad tienen que respetar las motocicletas para circular por un mismo carril?

- Ocupando el máximo ancho de calzada.
- Circular una al lado de la otra ocupando el carril derecho.
- **Una detrás de otra ocupando el carril derecho.**

## UNIDAD 9: ELEMENTOS Y CONDICIONES DE SEGURIDAD (AUTO Y CAMIONETA)

1) ¿Cuál es el grado de alcoholemia permitido para desarrollar la conducción de autos?

- **0,0 mg.**
- 0,2 mg.
- 0,5 mg.

2) Condiciones para conducir:

- Los automotores serán conducidos con ambas manos sobre el volante de dirección.
- **Los automotores serán conducidos con ambas manos sobre el volante de dirección, excepto cuando sea necesario accionar otros comandos.**
- Los automotores serán conducidos con al menos una mano sobre el volante de dirección.

3) Menores de edad:

- **Los menores de hasta DIEZ (10) años deben viajar sujetos al asiento trasero con el correaje correspondiente.**
- Los menores de hasta OCHO (8) años deben viajar sujetos al asiento trasero con el correaje correspondiente.
- Los menores de hasta SEIS (6) años deben viajar sujetos al asiento trasero con el correaje correspondiente.

4) ¿Está permitido conducir en la vía pública con auriculares puestos?

- Si, ya que no genera impedimento visual ni físico.
- **No, está expresamente prohibido por la ley.**
- Depende por cuál vía se circule.

5) ¿Cuáles son los factores que pueden afectar al campo visual?

- **Condiciones climáticas.**
- Tamaño del vehículo.
- Iluminación propia del vehículo.

6) Sólo se admitirán en los vidrios los aditamentos que tengan fines de identificación (oficiales o privados)

- **Verdadero.**
- Falso.

7) ¿Cuándo hay que usar el cinturón de seguridad?

- **Hay que circular con el mismo abrochado en todos los casos.**
- Sólo si se circula a gran velocidad.
- Solo en zonas rurales.

8) ¿Quiénes deben utilizar el cinturón de seguridad?

- El conductor.
- Aquellos que van en la parte delantera del vehículo.
- **Todos los ocupantes.**

(Pregunta de carácter eliminatorio)

9) ¿Cuál es la “distancia mínima de seguridad” que deben respetar los vehículos entre sí para circular?

- **Una diferencia de 2 segundos.**
- Una distancia de 2 metros.
- No existe una determinada. Sólo está prohibido circular inmediatamente detrás, sin dejar distancia.

10) ¿Está permitido circular marcha atrás en Provincia de Buenos Aires?

- **No, salvo que se realice para estacionar, entrar o salir de un garaje (cuando no exista otra posibilidad).**
- Sí, se puede realizar en cualquier ocasión, pero el trayecto para circular debe ser de pocos metros.
- Sí, siempre que se realice antes de llegar a la mitad de la cuadra y asegurándose de no poner en riesgo al resto de los vehículos.

11) Si la calzada está mojada y hay charcos, ¿pueden perder eficacia los frenos?

- No, al contrario, se mejora la adherencia porque los neumáticos se limpian.
- **Sí, porque al mojarse pueden no funcionar eficazmente.**
- No, porque justamente los frenos sirven para contrarrestar los efectos de la calzada resbaladiza.

12) Todos los cristales de un vehículo deben garantizar visibilidad:

- Solamente de adentro del automóvil hacia afuera.
- **Desde adentro hacia fuera y de afuera hacia adentro del vehículo.**
- El único cristal que debe garantizar plena y total visibilidad es el parabrisas.

13) ¿En qué ocasiones se permite el uso de la bocina?

- **Sólo para advertir una situación potencialmente de peligro.**
- Sólo para advertir de un sobrepaso.
- Ambas respuestas, la A y la B, son incorrectas.

14) Además de ser trasladados en el asiento trasero del vehículo, deberán ubicarse en el dispositivo de retención infantil correspondiente:

- Los menores de 2 años.
- Los menores de 3 años.
- **Los menores de 4 años.**

15) En la caja de una camioneta pueden trasladarse:

- Hasta 2 personas.
- **Ninguna persona.**
- Depende la capacidad de carga.

16) El uso de airbag ¿sustituye la obligación de utilizar el cinturón de seguridad?

- Sí, porque evita el impacto del conductor y pasajeros contra los elementos del vehículo.
- Sí, porque evita lesiones en la cabeza y el cuello.
- **No, porque actúa complementando la protección que ofrece el cinturón de seguridad.**

17) En los vehículos que poseen cinturones de seguridad ¿es obligatorio usarlos?

- **Sí, todos sin excepción.**
- Solo los que ocupen el asiento delantero, siendo opcional para los demás.
- Sí, pero únicamente cuando circulen en rutas o autopistas.

## UNIDAD 10: ESTACIONAMIENTO (AUTO Y CAMIONETA)

1) Estacionar en doble fila está permitido únicamente:

- En días de lluvia, frente a establecimientos escolares.
- En días de lluvia, frente a hospitales.
- **No está permitido el estacionamiento en doble fila.**

(Pregunta de carácter eliminatorio)

2) ¿Cuándo está permitido estacionar en espacios destinados a parada de transporte de pasajeros?

- En horarios donde el transporte esté fuera de línea.
- **No está permitido estacionar en esos sitios.**
- Está permitido si no cuenta con doble señalización (horizontal y vertical).

3) ¿Cuándo se debe ceder el paso a los vehículos que desean incorporarse al tránsito desde el lugar donde estaban estacionados o desde un garaje?

- Siempre, independientemente de cómo se encuentre el tránsito vehicular.
- **Cuando el tránsito se encuentra interrumpido por cualquier razón.**
- Nunca, independientemente de cómo se encuentre el tránsito vehicular.

4) ¿Qué línea debe tomarse de referencia cuando se detiene o estaciona en proximidad de una esquina?

- La línea peatonal.
- **La línea imaginaria de prolongación de ochava.**
- La línea de edificación transversal.

5) ¿Qué distancia mínima debe dejarse entre autos al estacionar en zona urbana?

- 30 cm.
- 40 cm.
- **50 cm.**

6) ¿Dónde se encuentra permitido realizar el estacionamiento de vehículos?

- **Frente a farmacias de turno.**
- Frente a escuelas y hospitales.
- Sobre la senda peatonal.

